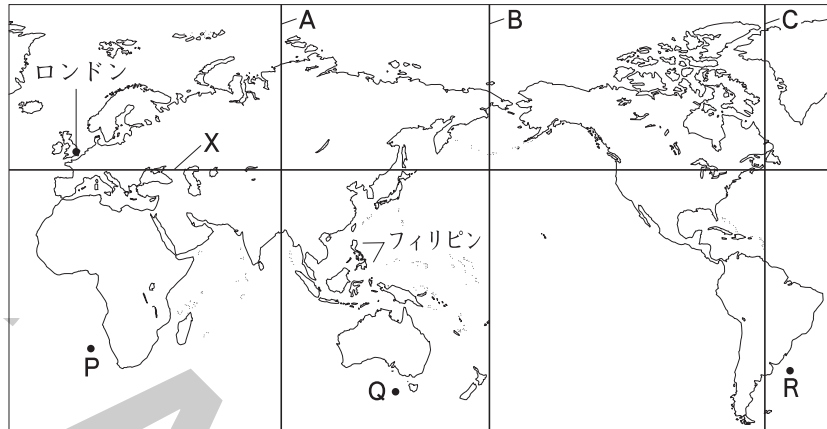


練成問題

1 次の略地図を見て、あとの問いに答えなさい。



□(1) 略地図中の線Xは、緯度何度を示しているか。最も適当なものを次から1つ選び、記号で答えなさい。

- ア 北緯45度 イ 北緯135度
ウ 南緯45度 エ 南緯135度

(1) _____

□(2) 略地図中のロンドンとフィリピンの間には8時間の時差がある。2つの地域の経度の差は何度か、答えなさい。

(2) _____

□(3) 日付変更線は、ある経線にほぼ沿って設定されている。その経線を略地図中の線A～Cから1つ選び、記号で答えなさい。

(3) _____

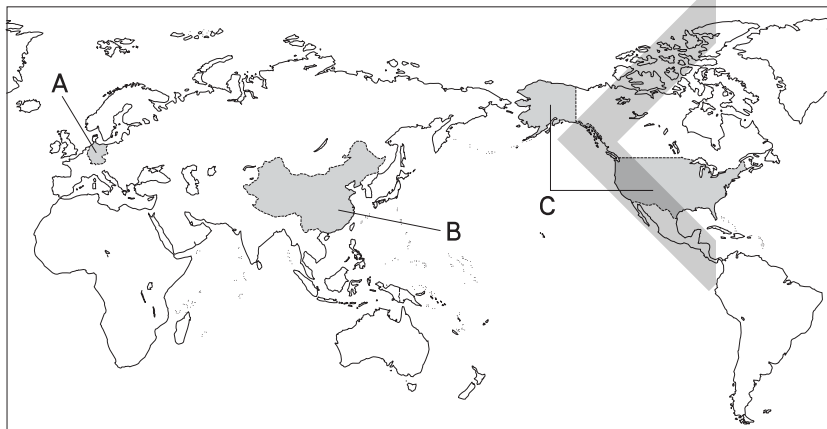
□(4) 日本から見て、地球のほぼ反対側にあるのはどこか。略地図中のP・Q・Rから1つ選び、記号で答えなさい。

(4) _____

□(5) 略地図には、六大陸のうち1つが示されていない。その大陸の名を答えなさい。

(5) _____

2 次の略地図を見て、世界の国々に関するあとの問いに答えなさい。



□(1) 現在、世界には()あまりの独立国がある。()にあてはまる数として最も適当なものを次から1つ選び、記号で答えなさい。

- ア 150 イ 170 ウ 190 エ 210

(1) _____

□(2) 国の3要素にあてはまらないものを次から1つ選び、記号で答えなさい。

ア 領土 イ 主権(政府) ウ 国民 エ 兵力

(2) _____

□(3) 略地図中のAの国について、次の問いに答えなさい。

□① この国のライン川沿いにあるヨーロッパ最大の工業地域を何と
いうか、答えなさい。

(3) _____

① _____

□② この国をはじめとして、ヨーロッパでは、小麦などの穀物や飼
料作物の栽培と、家畜の飼育を組み合わせた農業がさかんに行わ
れている。このような農業を何とよぶか、答えなさい。

② _____

□③ この国は1993年に発足した、ヨーロッパの政治・経済的統合を
目指す組織の加盟国である。この組織の名を答えなさい。

③ _____

□(4) 略地図中のBの国について、次の問いに答えなさい。

□① この国について述べた文として最も適当なものを次から1つ選び、
記号で答えなさい。

ア 人口の増加がいちじるしく、政府は人口の増加を抑制するた
めの政策をとってきた。

イ 国土の約4分の1をポルダーと呼ばれる干拓地が占めている。

ウ 植民地時代に、外国人の資本によってつくられたプランテー
ションが発達した。

エ 経済・政治の相互援助を目的としてつくられた東南アジア諸国
連合(A S E A N)に加盟している。

(4) _____

① _____

□② この国の人口の90%以上を占めている民族を何とよぶか、答えな
さい。

② _____

□③ この国では、外国の資本や技術を導入するため、沿岸部に税金
等の面で外国企業を優遇する地区ゆうぐうを設けている。このような地区
を何とよぶか、答えなさい。

③ _____

□(5) 略地図中のCの国について、次の問いに答えなさい。

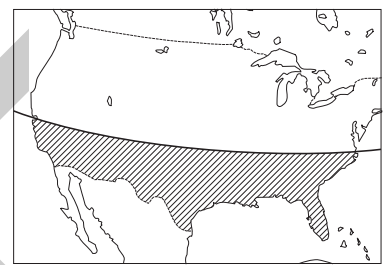
□① 右の地図中に斜線で示した地域の工業について述べた文として
最も適当なものを次から1つ選び、記号で答えなさい。

ア 森林資源が豊富で、紙・パルプ工業がさかんである。

イ ピッツバーグでは鉄鋼業がさかんである。

ウ 電子工業などのハイテク(先端技術)産業がさかんである。

エ デトロイトでは自動車工業がさかんである。



□② この国の農業で行われている適地適作とはどのようなものか、簡
単に説明しなさい。

(5) _____

① _____

□③ 国際連合の本部が置かれている都市を次から1つ選び、記号で
答えなさい。

② _____

ア ニューヨーク イ サンフランシスコ

ウ ワシントン エ ロサンゼルス

③ _____